

VENDREDI 10 AVRIL

- 1) François a fait 8 erreurs dans sa dictée ! Souligne ses erreurs puis recopie-la en la-corrigeant.

*Après sortir de l'hibernation, l'ours passe beaucoup de temps à parcourir son territoire à la recherche de nourriture. Il débusque les insectes dans les troncs pourris, les glands conservés sous la neige et mange des fougères et des bourgonds.*

- 2) Souligne en rouge le verbe, en noir le sujet, en vert les COD et COI et en bleu les compléments circonstanciels.

- a) Samy et toi essayez les déguisements dans la boutique.
- b) Nous avons reçu le prix littéraire à Orléans.
- c) Hier, les élèves recitaient leur poésie avec bonheur.

- 3) Transforme les phrases en changeant le sujet, comme demandé.

- a) Jenny et Jane ont déjeuné tôt.

→ Nous .....

- b) Elles ont préparé leur sac.

→ Il .....

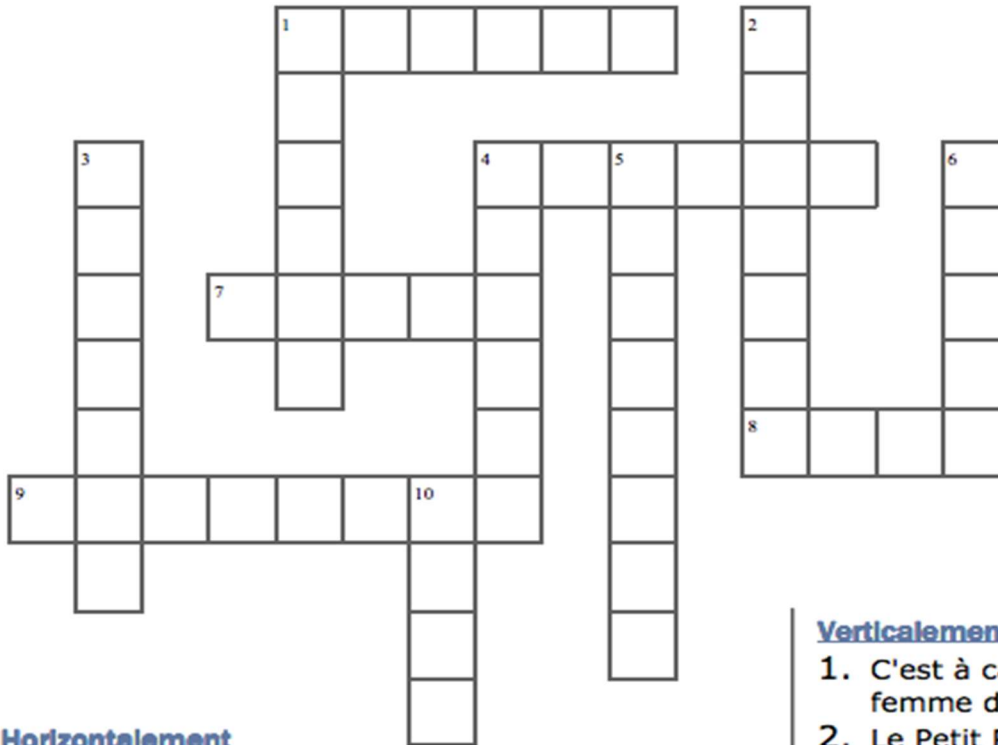
- c) Vous êtes allés les réveiller.

→ Tu .....

**à imprimer**  
**OU à faire directement dans le**  
**petit cahier en écrivant les**  
**numéros**

Le petit poucet :

Complète la grille de mots croisés :



**Horizontalement**

- 1 . Le Petit Poucet arrive à y revenir avec ses frères grâce aux cailloux.
- 4 . C'est ce que va faire la femme de l'ogre Du Petit Poucet et de ses frères.
- 7 . Le Petit Poucet y monte en haut pour essayer de retrouver son chemin.
- 8 . Nombre de fils du bûcheron et de sa femme.
- 9 . Métier du père du Petit Poucet.

**Verticalement :**

1. C'est à cause d'elle que le bûcheron et sa femme doivent abandonner leurs fils.
2. Le Petit Poucet marque son chemin avec la deuxième fois.
3. C'est eux qui ont fait disparaître les miettes de pain.
4. Le Petit Poucet ne retrouve plus le sien.
5. Le Petit Poucet les jette sur le chemin.
6. Endroit où le bûcheron et sa femme vont perdre leurs fils.
- 10 C'est dans sa maison que le Petit Poucet et ses frères arrivent.

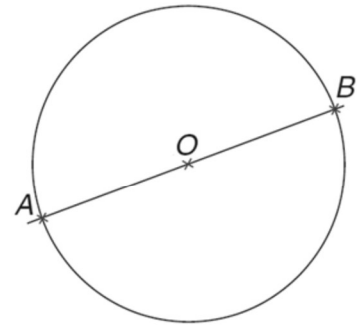
Pose et effectue :  $583 : 7 =$

à faire directement sur une feuille blanche

n°1 :

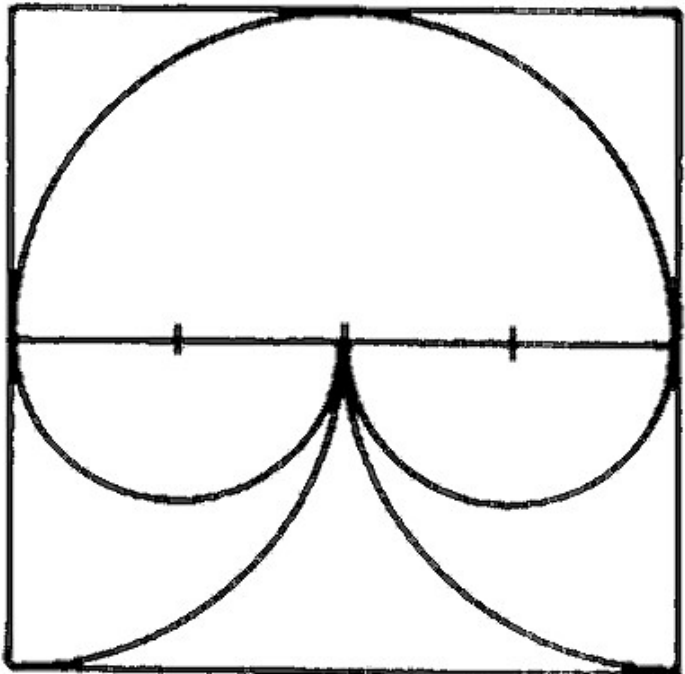
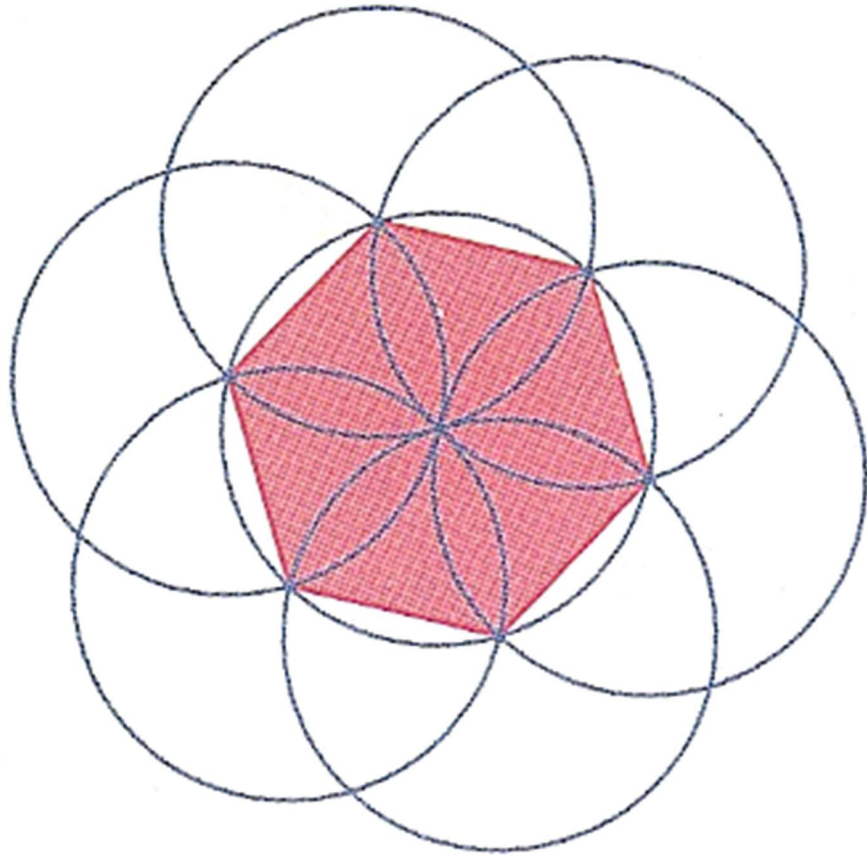

Voici un cercle de centre  $O$  et un diamètre  $AB$  de ce cercle.

- Repasse en rouge un demi-cercle.
- Trace un diamètre  $CD$  perpendiculaire au diamètre  $AB$ .
- Repasse en vert un quart de cercle.
- À l'aide de ta règle, joins les points  $A, C, B$  et  $D$ .  
Qu'obtiens-tu ?



n°2 :

Reproduis au moins une figure en respectant les dimensions du modèle (pour cela utilise ton compas pour prendre les dimensions directement sur la figure) puis colorie-la (les).



- 1) François a fait 8 erreurs dans sa dictée ! Souligne ses erreurs puis recopie-la en la-corrigeant.

Après sortir de l'hibernation, l'ours passe beaucoup de temps à parcourir **sont** territoire à la recherche de nourriture. Il débusque les **insecte** dans les troncs **pourri**, les glands **conservé** sous la neige et mange des **fougère est des bourgona**.

Après sortir de l'hibernation, l'ours passe beaucoup de temps à parcourir **son** territoire à la recherche de nourriture. Il débusque les **insectes** dans les troncs **pourris**, les glands **conservés** sous la neige et mange des **fougères et des bourgeons**.

- 2) Souligne en rouge le verbe, en noir le sujet, en vert les CO et en bleu les compléments circonstanciels.

- a) Samy et toi essayez les déguisements dans la boutique.

GS            V            CO            CC de lieu

- b) Nous avons reçu le prix littéraire à Orléans.

S            GV            CO            CC de lieu

- c) Hier, les élèves récitaient leur poésie avec bonheur.

CC de lieu    GS            V            CO            CC de manière

- 3) Transforme les phrases en changeant le sujet, comme demandé.

- a) Jenny et Jane ont déjeuné tôt.

→ Nous **avons déjeuné tôt**.

- b) Elles ont préparé leur sac.

→ Il **a préparé son sac**.

- c) Vous êtes allés les réveiller.

→ Tu **es allé les réveiller**.

## Le petit poucet :

## CORRECTION



### Horizontalement

- 1 . Le Petit Poucet arrive à y revenir avec ses frères grâce aux cailloux.
- 4 . C'est ce que va faire la femme de l'ogre Du Petit Poucet et de ses frères.
- 7 . Le Petit Poucet y monte en haut pour essayer de retrouver son chemin.
- 8 . Nombre de fils du bûcheron et de sa femme.
- 9 . Métier du père du Petit Poucet.

### Verticalement :

1. C'est à cause d'elle que le bûcheron et sa femme doivent abandonner leurs fils.
2. Le Petit Poucet marque son chemin avec la deuxième fois.
3. C'est eux qui ont fait disparaître les miettes de pain.
4. Le Petit Poucet ne retrouve plus le sien.
5. Le Petit Poucet les jette sur le chemin.
6. Endroit où le bûcheron et sa femme vont perdre leurs fils.
10. C'est dans sa maison que le Petit Poucet et ses frères arrivent.

## CORRECTION

Pose et effectue :  $583 : 7 = 83$  reste 2

n°1 :

Voici un cercle de centre  $O$  et un diamètre  $AB$  de ce cercle.

- Repasse en rouge un demi-cercle.
- Trace un diamètre  $CD$  perpendiculaire au diamètre  $AB$ .
- Repasse en vert un quart de cercle.
- À l'aide de ta règle, joins les points  $A$ ,  $C$ ,  $B$  et  $D$ .  
Qu'obtiens-tu ?

*J'obtiens un carré ACBD.*

