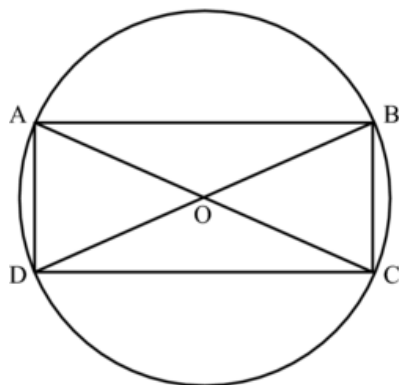
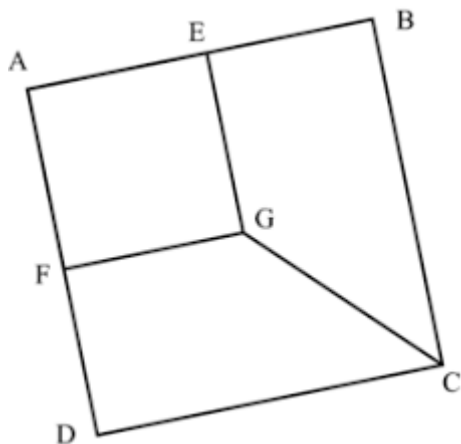


Programme 2 : Observe la figure et écris un programme de construction avec la même méthode que le programme 1.



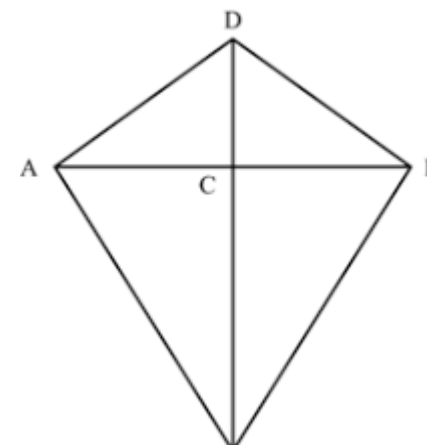
☐ Validé

Programme 3 : Observe la figure et écris un programme de construction avec la même méthode que le programme 1.



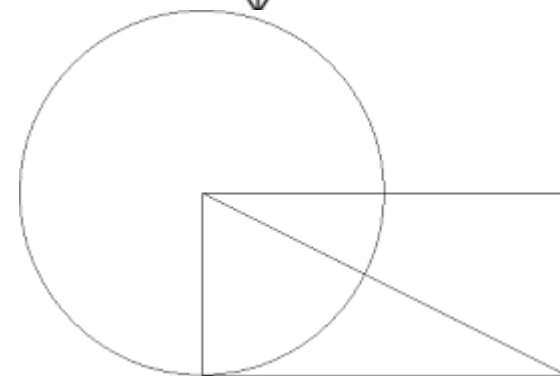
☐ Validé

Programme 4 : Observe la figure et écris un programme de construction avec la même méthode que le programme 1.



☐ Validé

Programme 5 : Observe la figure et écris un programme de construction avec la même méthode que le programme 1.



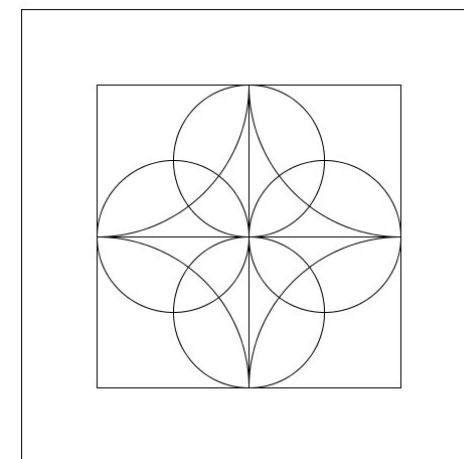
⚠ **Nomme les points**

☐ Validé

Programme 6 : Observe la figure et écris un programme de construction avec la même méthode que le programme 1.

⚠ **Nomme les points**
Double les mesures.

☐ Validé



Programme 7 : Observe la figure et écris un programme de construction avec la même méthode que le programme 1.



Nomme les points

Double les mesures



Validé

