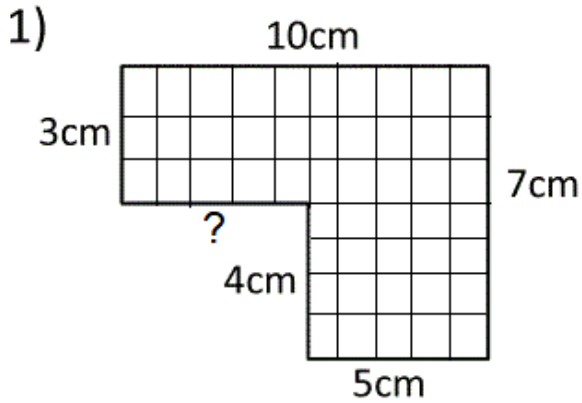
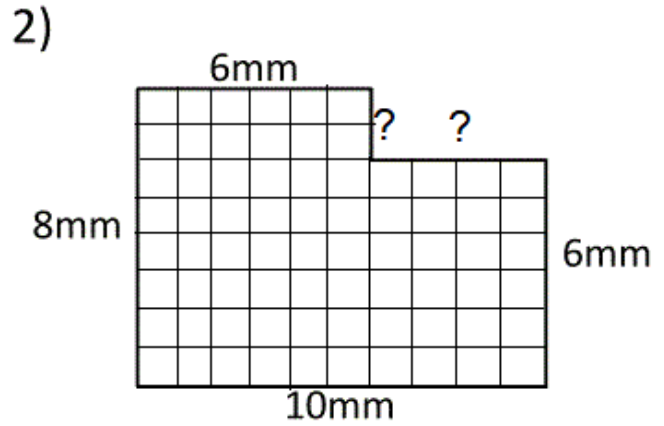


# Mesures d'aires et de périmètres

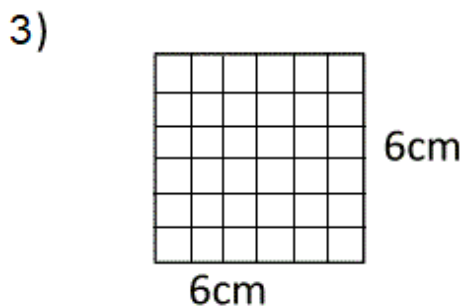
Calcule le périmètre et l'aire de chacune des figures suivantes :  
 il faut d'abord calculer les mesures manquantes.  
 Attention, les mesures indiquées ne sont pas réelles !



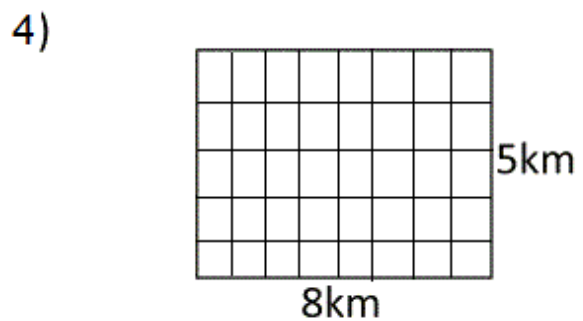
Calculs : .....  
**Périmètre** : ..... cm  
 Calculs P : .....  
**Aire** : ..... u .



Calculs : .....  
**Périmètre** : ..... mm  
 Calculs P : .....  
**Aire** : ..... u .



Calculs : .....  
**Périmètre** : ..... cm  
 Calculs P : .....  
**Aire** : ..... u .



Calculs : .....  
**Périmètre** : ..... km  
 Calculs P : .....  
**Aire** : ..... u .

Que remarques-tu avec les aires du carré et du rectangle ?

.....  
 .....